



Wochenplan 6 für den Zeitraum vom 8.02.2021 bis 12.02.2021


Liebe Klasse 9,

hier ist der Plan für diese Woche. Das Material haben wir euch wieder per Post geschickt. Wir treffen uns täglich um 10 Uhr (Ausnahme **Donnerstag: 12 Uhr**) unter dem Euch bekannten Link in BBB zum Unterricht. Dies ist verpflichtend und wir werden gemeinsamen Unterricht machen. Die täglichen Abgaben sagen wir euch in den Konferenzen. Bitte schickt uns die Fotos der AB, AH- Seiten etc. über die Schulcloud.

Liebe Grüße! Herr Laxa und Frau Kreuzscher

Montag, der 8.02.2021


Fach	Material	Aufgabe	erledigt ✓	kontrolliert
	BBB	<u>BBB- Konferenz um 10 Uhr</u>		
Sozialkunde	Internet	<u>ZDF tivi Logo</u> Schau dir die Nachrichten von Samstag und Sonntag an. Mache dir zu jedem Tag Stichpunkte (mindestens eine halbe Seite pro Tag).		
Deutsch	Arbeitsheft Stark in Deutsch 3	<u>Rechtschreibübungen: „das“ und „dass“ richtig schreiben (Seite 60)</u> Man unterscheidet zwischen „das“ und „dass“: „Das“ wird als Pronomen mit „s“ geschrieben und man kann „dieses oder welches“ für es einsetzen: Bsp.: Das Handy, das ich besitze, ist schön Das Handy, welches ich besitze, ist schön. „Dass“ als Bindewort wird mit „ss“ geschrieben:		

Dienstag, der 9.02.2021				
Fach	Material	Aufgabe	erledigt	kontrolliert
	BBB	<u>BBB- Konferenz um 10 Uhr</u>	✓	
Deutsch	AB „das“ und „dass“	<u>Rechtschreibübungen: „das“ und „dass“</u> Bearbeite das AB „das“ und „dass“ und schreibe die Sätze dann in dein Deutschheft. Überlege immer ob du statt „das“ auch „welches oder dieses“ einsetzen kannst. Außerdem steht vor „dass“ immer ein Komma.		
Deutsch	Anton- App	<u>Übe mit der Anton- App: aktueller Pin zu „das“ und „dass“</u>		
Biologie	Klick AH Biologie 9	<u>Die Bestandteile des Auges (AH S. 66/ 70)</u> Erstelle eine mindmap zu den äußeren und inneren Bestandteilen des Auges. Schreibe immer die Funktion dazu. Nimm dazu dein Biologieheft quer und schreibe „Das Auge“ in die Mitte. Bsp: Pupille: funktioniert wie eine Blende  Folgende Bestandteile sollten vorkommen: <i>Augenbraue, Oberlid/ Unterlid, Wimpern,, Lederhaut, Hornhaut, Pupille, Augenlinse, Netzhaut</i>		
Mathe	Buch Stark in Mathe 3 AH Stark in Mathe 3 Teil 1	<u>Addition und Subtraktion von Dezimalzahlen</u> Gruppe 1: Buch S. 23 Nr. 2 AH S. 10 Nr. 1 Gruppe 2: Buch S. 23 Nr. 2 a, c AH S. 10 Nr. 1 und 2		



Mittwoch, der 10.02.2021				
Fach	Material	Aufgabe	erledigt	kontrolliert
	BBB	<u>BBB- Konferenz um 10 Uhr</u>	✓	
Musik		<u>Präsentation der Referate über die Musikinstrumente</u>		

		<p>In den letzten zwei Wochen habt ihr ein Referat über ein Musikinstrument erstellt und die Präsentation dazu geübt.</p> <p>Heute werden diese – wie angekündigt- in unserer BBB präsentiert. Bitte schickt vorher ein Bild eures Steckbriefes/ Plakates in die Klassengruppe der Schul.cloud.</p>		
Deutsch	Arbeitsheft Stark in Deutsch 3	<p><u>Rechtschreibübungen: Wörter „seit“ und „seid“ richtig schreiben (Seite 61)</u></p> <p>Man unterscheidet zwischen „seit“ und „seid“. Wenn es um eine Zeitangabe geht, schreibt man „seit“. Wenn es um da Verb sein geht, schreibt man es „seid“. Dann kommt auch immer das Pronomen „ihr“ dazu.</p> <p>Schreibe den roten Kasten in dein Deutschheft ab und bearbeite die Arbeitsheftseite.</p>		
Mathe	<p>Buch Stark in Mathe 3</p> <p>AH Stark in Mathe 3 Teil 1</p>	<p><u>Addition und Subtraktion von Dezimalzahlen</u></p> <p>Gruppe 1: Buch S. 23 Nr. 3 AH S. 10 Nr. 3</p> <p>Gruppe 2: Buch S. 23 Nr. 3, 6 AH S. 10 Nr. 3 und 4</p>		
Biologie	AH Klick 9 Biologie	<p><u>Kurzsichtigkeit und Weitsichtigkeit (AH Klick 9 Bio S. 71)</u></p> <ol style="list-style-type: none"> Lies dir die Texte zu Kurz- und Weitsichtigkeit durch. Markiere wichtige Aussagen. Beantworte folgende Fragen schriftlich in ganzen Sätzen: <p>Kurzsichtigkeit:</p> <ul style="list-style-type: none"> - Was führt zu Kurzsichtigkeit? - Wo entsteht das scharfe Bild ? - Wie sieht ein kurzsichtiger Mensch? -Wie kann der Augenfehler korrigiert werden? <p>Weitsichtigkeit:</p> <ul style="list-style-type: none"> - Was führt zu Weitsichtigkeit? - Wo entsteht das scharfe Bild? - Wie sieht ein weitsichtiger Mensch? - Wie kann der Augenfehler korrigiert werden? 		

Donnerstag, der 11.02.2021

Fach	Material	Aufgabe	erledigt ✓	kontrolliert
	BBB	<u>BBB- Konferenz um 12 Uhr</u>		
Deutsch	AB zu „seit“ und „seid“	<u>Rechtschreibübungen: Wörter „seit“ und „seid“ richtig schreiben</u> Bearbeite das AB zu „seit“ und „seid“.		
Mathe	Buch Stark in Mathe 3 AH Stark in Mathe 3 Teil 1	<u>Multiplizieren mit 10,100,1000</u> Schreibe den gelben Merkkasten in euer Matheheft und erkläre einem Familienmitglied, wie sich das Komma beim Malnehmen mit 10,100 und 1000 verschiebt. Gruppe 1: Buch S. 24 Nr. 2 AH S. 11 Nr. 1 Gruppe 2: Buch S. 23 Nr. 2,3 AH S. 11 Nr. 1,2		
Ethik	AH Klick Ethik S. 17	<u>„Ein Nein akzeptieren“</u> <ul style="list-style-type: none"> • Lies dem Comic und den Text auf S. 17 • Bearbeite Nr. 1 und 3 		
Englisch	Internet	https://learningapps.org/16854792 Gehe auf den Link und bearbeite die Aufgaben: <ol style="list-style-type: none"> 1. Hörverstehen: Klicke auf die Audiodateien und ordne ihnen den Bildern zu. 2. Klicke die roten Punkte auf den Bildern an und suche das englische Wort 3. Spiele „alleine“. Ordne den Mahlzeiten ihre englischen Namen zu. 4. Setze die gesuchten Wörter ein. 		
Arbeitslehre	AB	<u>Gruppe Hauswirtschaft</u> Bearbeitet den Arbeitsauftrag von Frau Velten zum „Apfel“		

	Anton- APP	Gruppe Techniklehre Bearbeite den aktuellen Pin in der Anton- App zu Arbeitslehre: Material kennenlernen		
--	------------	--	--	--

Freitag, der 12.02.2021				
Fach	Material	Aufgabe	erledigt ✓	kontrolliert
Mathe	Buch Stark in Mathe 3 AH Stark in Mathe 3 Teil 1	Multiplizieren mit 10,100,1000 Schreibe den gelben Merkkasten in euer Matheheft und erkläre einem Familienmitglied, wie sich das Komma beim Malnehmen mit 10,100 und 1000 verschiebt. Gruppe 1: Buch S. 24 Nr. 3,4 AH S. 11 Nr. 2 Gruppe 2: Buch S. 23 Nr. 4,5,6		
Geschichte	Klick 9 Geschichte AB	Schaue dir das Video an: https://www.zdf.de/kinder/logo/gruende-erster-weltkrieg-100.html <ul style="list-style-type: none"> Lies den Text auf S. 16 und vervollständige den Lückentext auf dem Arbeitsblatt „Ein Attentat löst den ersten Weltkrieg aus“. Bearbeite auf S. 17 Nr. 2. Schicke Herrn Laxa ein Bild von Nr.2. Wenn alles richtig ist, schreibe den Text in dein Heft ab.		
Erdkunde	AB S. 84, 85	„Wie viel Strom verbrauchen Elektrogeräte?“ <ul style="list-style-type: none"> Lies die Infotexte auf S. 84 Bearbeite Nr. 1, 2, 3, 4, 5. Zusätzlich: https://learningapps.org/2510183 https://learningapps.org/14011040 (knifflig) <div style="display: flex; justify-content: space-around; align-items: center;">   </div> (knifflig)		